


1

Wie viele Plättchen sind es ?






Bild: ClipCottage

2

Welche Zahl ist in der Mitte ?

2 \_\_\_ 4

6 \_\_\_ 8

4 \_\_\_ 6

0 \_\_\_ 2

3 \_\_\_ 5

1 \_\_\_ 3

5 \_\_\_ 7

8 \_\_\_ 10

7 \_\_\_ 9



Bild: ClipCottage

3

Welche Zahl kommt davor ?

\_\_\_ 3

\_\_\_ 9

\_\_\_ 5

\_\_\_ 6

\_\_\_ 2

\_\_\_ 8

\_\_\_ 4

\_\_\_ 10

\_\_\_ 7





Bild: ClipCottage

4

Addiere .

$2 + 1 =$

$6 + 3 =$

$2 + 3 =$

$4 + 3 =$

$0 + 2 =$

$5 + 3 =$

$2 + 2 =$

$3 + 3 =$

$8 + 2 =$





5

Subtrahiere .

$10 - 2 =$

$7 - 3 =$

$6 - 4 =$

$8 - 8 =$

$9 - 3 =$

$5 - 4 =$

$7 - 2 =$

$7 - 0 =$

$6 - 3 =$




Bild: ClipCottage

# Lösungszettel

## Puzzle 1


## Puzzle 2


## Puzzle 3


## Puzzle 4


## Puzzle 5


Tipp: Um ein „wildes“ Ausprobieren zu verhindern, lässt man vorher die Ergebnisse des jeweiligen Puzzles in die Lösungszettel eintragen.