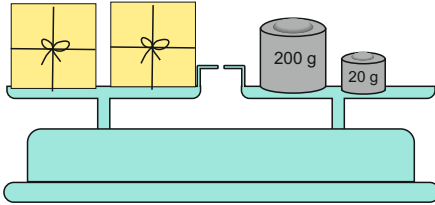


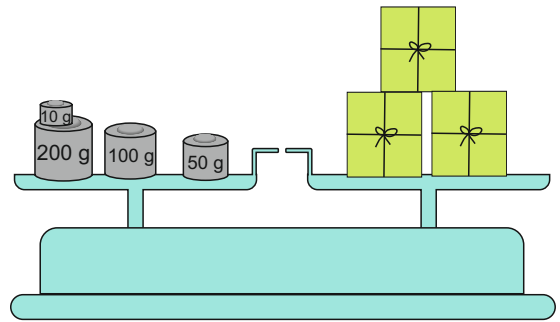
Wendekarten: Gewicht bestimmen (3)

Die Päckchen sind gleich schwer.
Wie viele Gramm wiegt ein Päckchen?



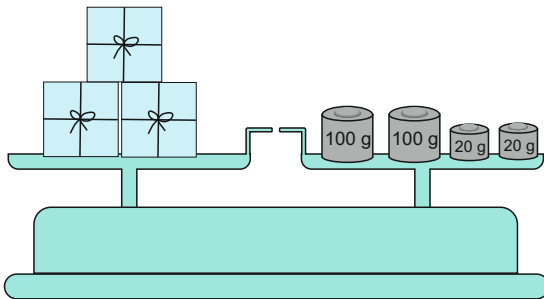
www.mathemonsterchen.de

Wie viele Gramm wiegt ein Päckchen?



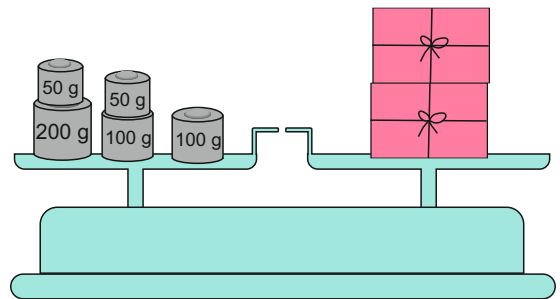
www.mathemonsterchen.de

Wie viele Gramm wiegt ein Päckchen?



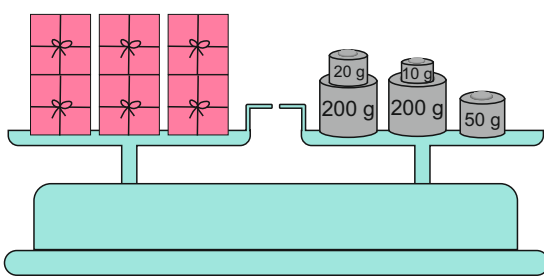
www.mathemonsterchen.de

Wie viele Gramm wiegt ein Päckchen?



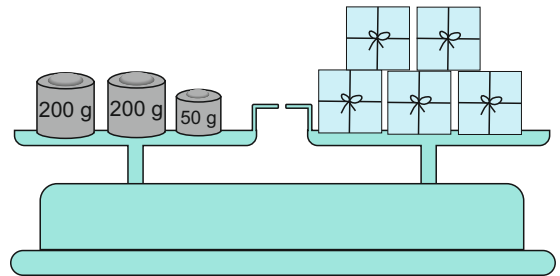
www.mathemonsterchen.de

Wie viele Gramm wiegt ein Päckchen?



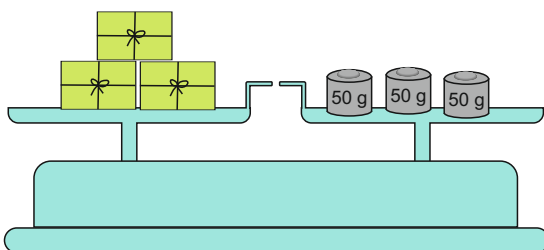
www.mathemonsterchen.de

Wie viele Gramm wiegt ein Päckchen?



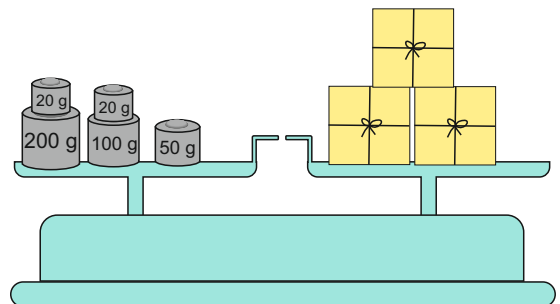
www.mathemonsterchen.de

Wie viele Gramm wiegt ein Päckchen?



www.mathemonsterchen.de

Wie viele Gramm wiegt ein Päckchen?



www.mathemonsterchen.de

12 g

250 g

90 g

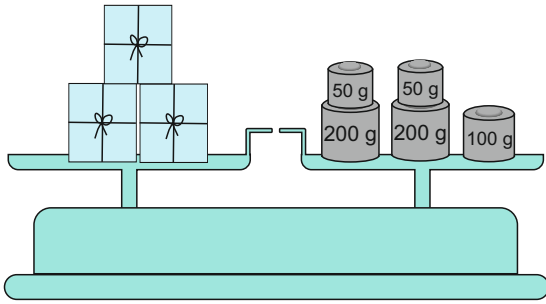
130 g

80 g

80 g

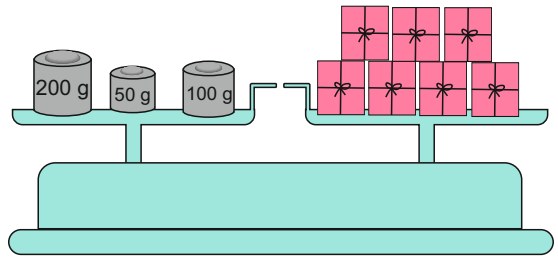
50 g

Wie viele Gramm wiegt ein Päckchen?

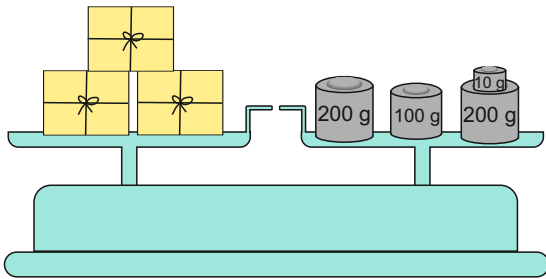


www.mathemonsterchen.de

Wie viele Gramm wiegt ein Päckchen?

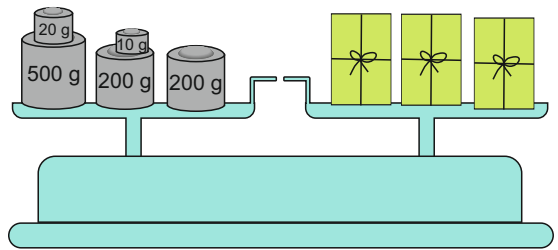


Wie viele Gramm wiegt ein Päckchen?

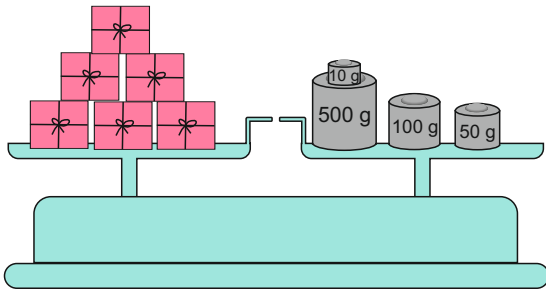


www.mathemonsterchen.de

Wie viele Gramm wiegt ein Päckchen?

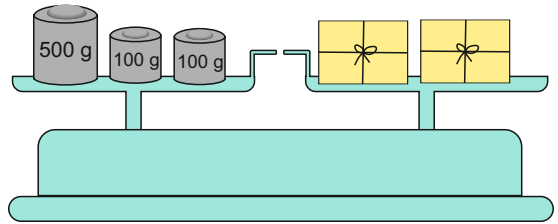


Wie viele Gramm wiegt ein Päckchen?

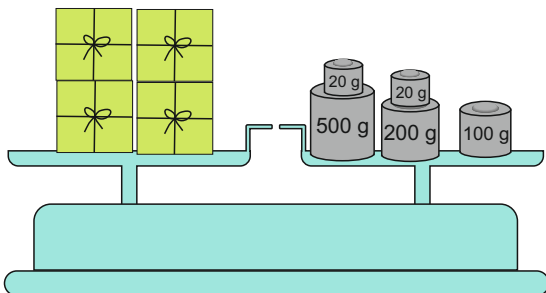


www.mathemonsterchen.de

Wie viele Gramm wiegt ein Päckchen?

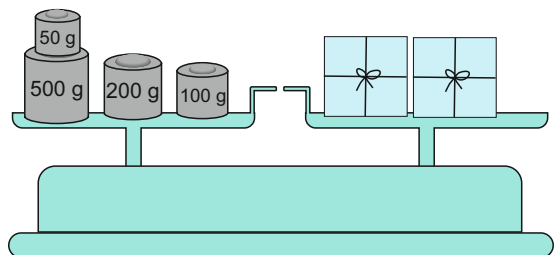


Wie viele Gramm wiegt ein Päckchen?



www.mathemonsterchen.de

Wie viele Gramm wiegt ein Päckchen?



www.mathemonsterchen.de

50 g

200 g

310 g

170 g

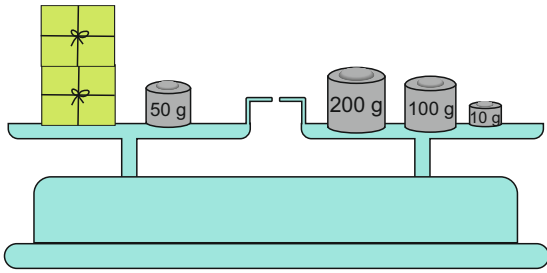
350 g

110 g

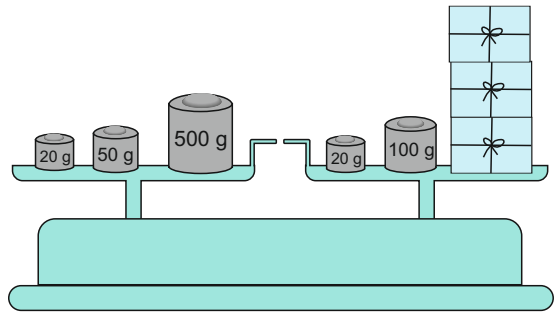
425 g

210 g

Wie viele Gramm wiegt ein Päckchen?

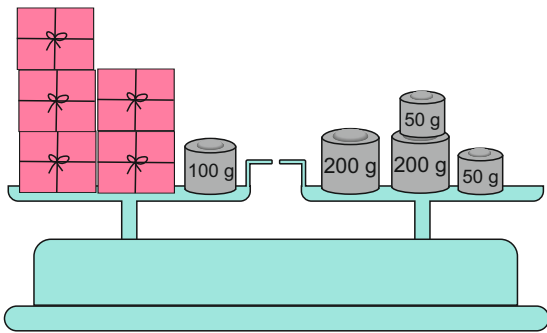


Wie viele Gramm wiegt ein Päckchen?

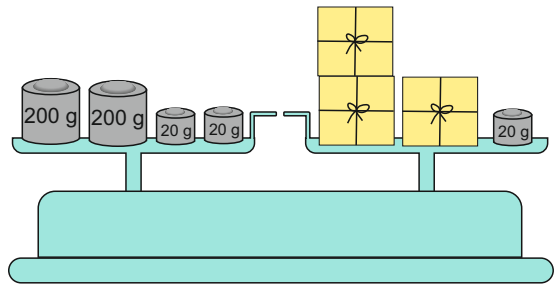


www.mathemonsterchen.de

Wie viele Gramm wiegt ein Päckchen?

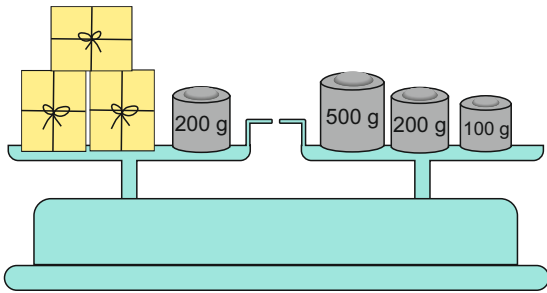


Wie viele Gramm wiegt ein Päckchen?

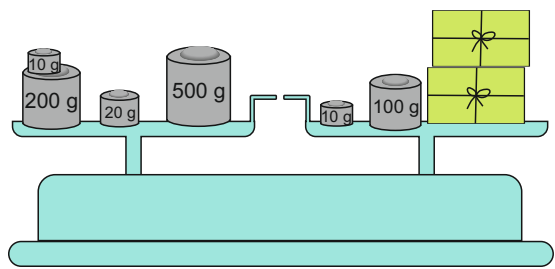


www.mathemonsterchen.de

Wie viele Gramm wiegt ein Päckchen?

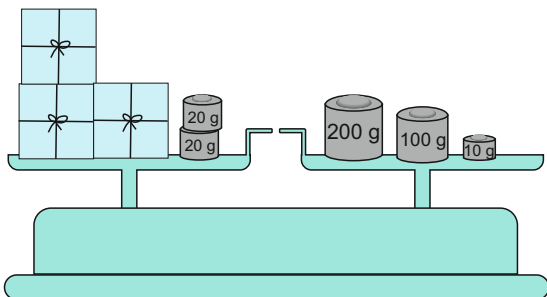


Wie viele Gramm wiegt ein Päckchen?

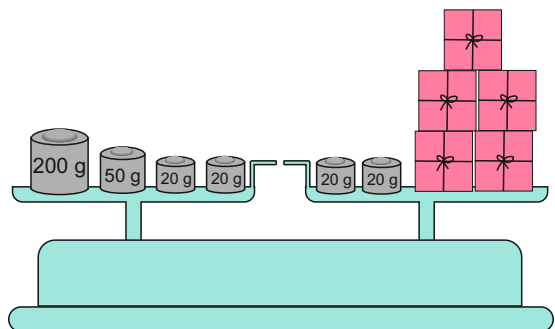


www.mathemonsterchen.de

Wie viele Gramm wiegt ein Päckchen?



Wie viele Gramm wiegt ein Päckchen?



www.mathemonsterchen.de

www.mathemonsterchen.de

150 g

130 g

140 g

80 g

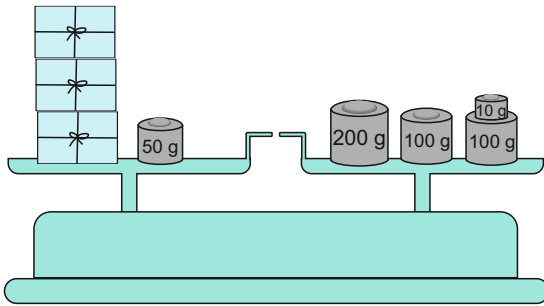
310 g

200 g

50 g

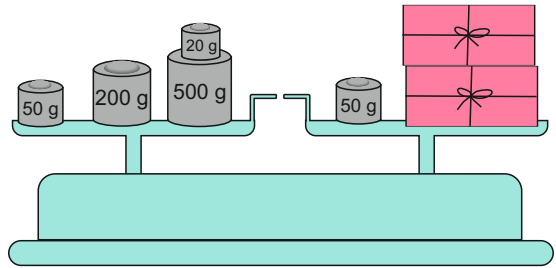
90 g

Wie viele Gramm wiegt ein Päckchen?

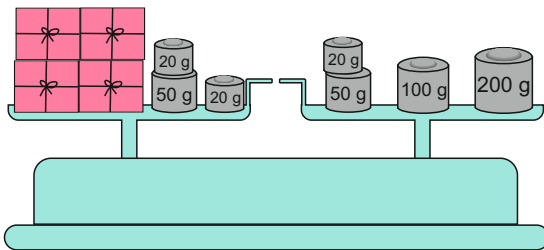


www.mathemonsterchen.de

Wie viele Gramm wiegt ein Päckchen?

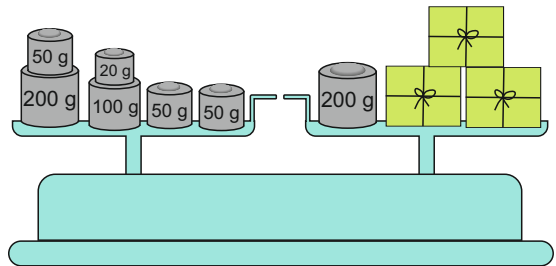


Wie viele Gramm wiegt ein Päckchen?

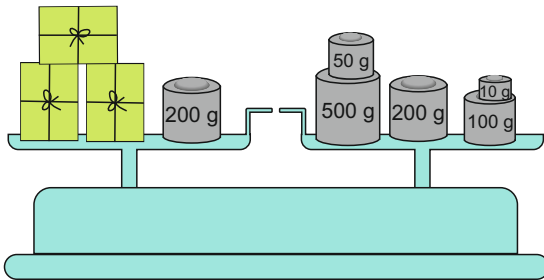


www.mathemonsterchen.de

Wie viele Gramm wiegt ein Päckchen?

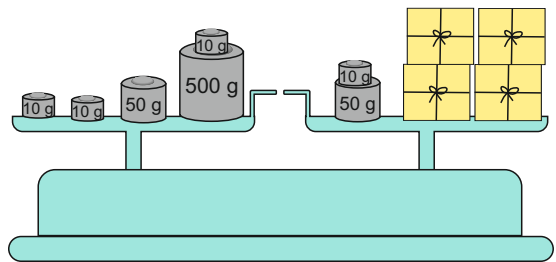


Wie viele Gramm wiegt ein Päckchen?

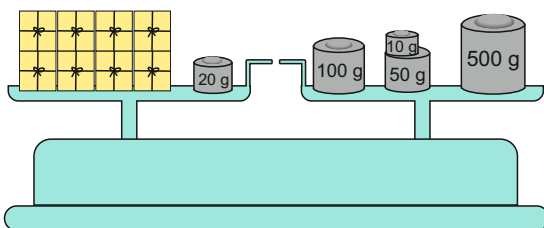


www.mathemonsterchen.de

Wie viele Gramm wiegt ein Päckchen?

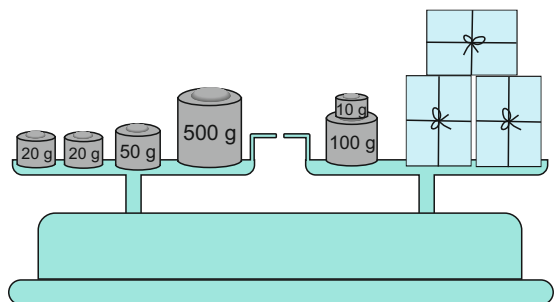


Wie viele Gramm wiegt ein Päckchen?



www.mathemonsterchen.de

Wie viele Gramm wiegt ein Päckchen?



www.mathemonsterchen.de

360 g

120 g

90 g

70 g

130 g

220 g

160 g

80 g