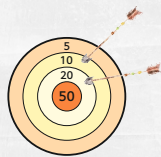


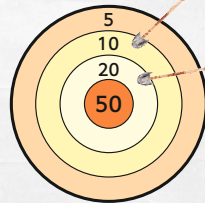
Bodo Biber schießt immer
3 Pfeile auf die Scheibe.
Den letzten Pfeil hat er schon entfernt.
Wie viele Punkte erzielte dieser Pfeil ?



Schreibe die Aufgabe
und das Ergebnis auf.

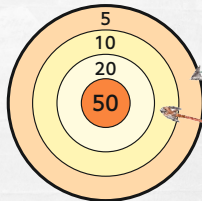
www.mathemonsterchen.de

Bodo Biber hat 50 Punkte erzielt.
Den letzte Pfeil hat er schon entfernt.
Er traf noch die 20.



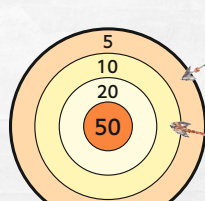
$$10 + 20 + \underline{20} = 50$$

Bodo Biber hat 25 Punkte erzielt.
Den letzte Pfeil hat er schon entfernt.
Er traf noch die ___.



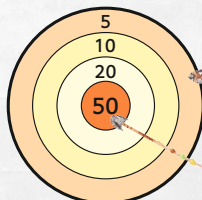
$$\underline{\quad} + \underline{\quad} + \underline{\quad} = 25$$

Bodo Biber hat 35 Punkte erzielt.
Den letzte Pfeil hat er schon entfernt.
Er traf noch die ___.



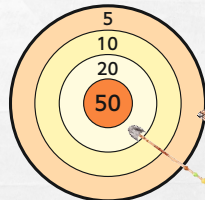
$$\underline{\quad} + \underline{\quad} + \underline{\quad} = 35$$

Bodo Biber hat 65 Punkte erzielt.
Den letzte Pfeil hat er schon entfernt.
Er traf noch die ___.



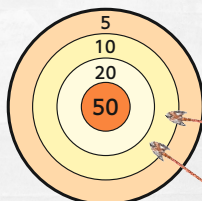
$$\underline{\quad} + \underline{\quad} + \underline{\quad} = 65$$

Bodo Biber hat 45 Punkte erzielt.
Den letzte Pfeil hat er schon entfernt.
Er traf noch die ___.



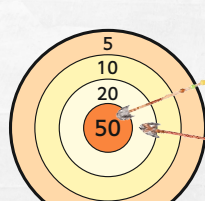
$$\underline{\quad} + \underline{\quad} + \underline{\quad} = 45$$

Bodo Biber hat 70 Punkte erzielt.
Den letzte Pfeil hat er schon entfernt.
Er traf noch die ___.



$$\underline{\quad} + \underline{\quad} + \underline{\quad} = 70$$

Bodo Biber hat 90 Punkte erzielt.
Den letzte Pfeil hat er schon entfernt.
Er traf noch die ___.



$$\underline{\quad} + \underline{\quad} + \underline{\quad} = 90$$

20 Punkte

10 Punkte

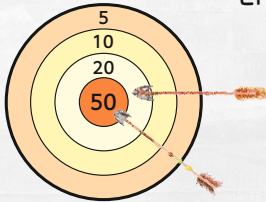
20 Punkte

10 Punkte

20 Punkte

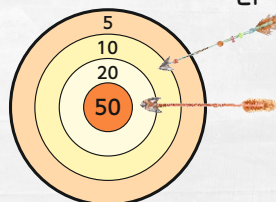
50 Punkte

Bodo Biber hat 75 Punkte erzielt.
Den letzte Pfeil hat er schon entfernt.
Er traf noch die ____.



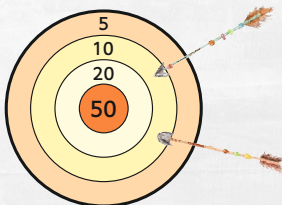
$$\underline{\quad} + \underline{\quad} + \underline{\quad} = 75$$

Bodo Biber hat 50 Punkte erzielt.
Den letzte Pfeil hat er schon entfernt.
Er traf noch die ____.



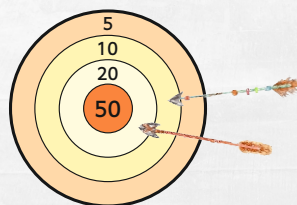
$$\underline{\quad} + \underline{\quad} + \underline{\quad} = 50$$

Bodo Biber hat 30 Punkte erzielt.
Den letzte Pfeil hat er schon entfernt.
Er traf noch die ____.



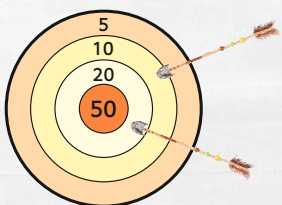
$$\underline{\quad} + \underline{\quad} + \underline{\quad} = 30$$

Bodo Biber hat 80 Punkte erzielt.
Den letzte Pfeil hat er schon entfernt.
Er traf noch die ____.



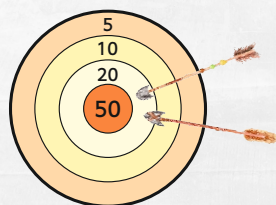
$$\underline{\quad} + \underline{\quad} + \underline{\quad} = 80$$

Bodo Biber hat 40 Punkte erzielt.
Den letzte Pfeil hat er schon entfernt.
Er traf noch die ____.




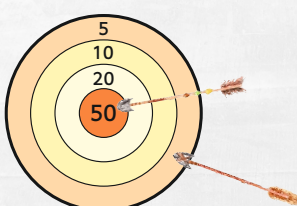
$$\underline{\quad} + \underline{\quad} + \underline{\quad} = 40$$

Bodo Biber hat 60 Punkte erzielt.
Den letzte Pfeil hat er schon entfernt.
Er traf noch die ____.



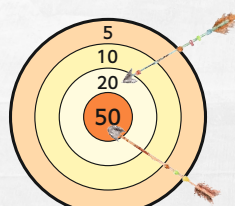
$$\underline{\quad} + \underline{\quad} + \underline{\quad} = 60$$

Bodo Biber hat 60 Punkte erzielt.
Den letzte Pfeil hat er schon entfernt.
Er traf noch die ____.



$$\underline{\quad} + \underline{\quad} + \underline{\quad} = 60$$

Bodo Biber hat 90 Punkte erzielt.
Den letzte Pfeil hat er schon entfernt.
Er traf noch die ____.



$$\underline{\quad} + \underline{\quad} + \underline{\quad} = 90$$

20 Punkte

5 Punkte

50 Punkte

10 Punkte

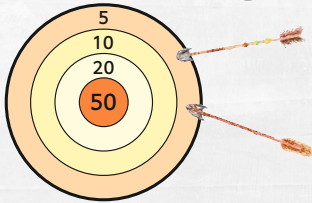
20 Punkte

10 Punkte

20 Punkte

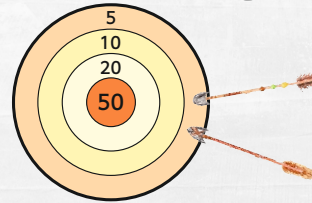
5 Punkte

Bodo Biber hat 15 Punkte erzielt.
Den letzte Pfeil hat er schon entfernt.
Er traf noch die ___.



$$\underline{\quad} + \underline{\quad} + \underline{\quad} = 15$$

Bodo Biber hat 20 Punkte erzielt.
Den letzte Pfeil hat er schon entfernt.
Er traf noch die ___.



$$\underline{\quad} + \underline{\quad} + \underline{\quad} = 20$$

10 Punkte

5 Punkte